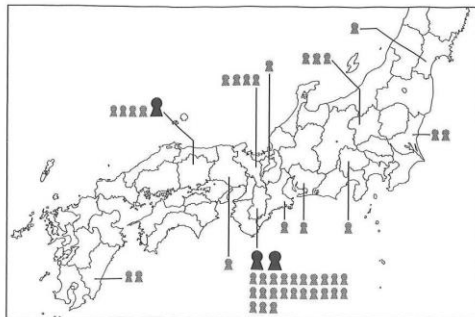




一般入試（第1回） 社会科問題

[1] 問1 選択肢・ウ (誤) A : 300 B : 30 → (正) A : 300 B : 150

資料 1 前方後円墳の県ごとの分布数



前方後円墳の長さが

-  m以上の古墳
-  m以上 ~ m未満の古墳

* m未満は省略

問1 と にあてはまる数字の組み合わせを、次のア～エから1つ選び、記号で答えなさい。

	ア	イ	ウ	エ
A	3	30	300	3000
B	1	3	30	1000